

Esercizi di storia con correzione

Competenza **SOTTOLINEARE**

I Fenici

Questa pagina ti propone lo stesso testo presente nel **Sussidiario a pagina 70**.
Sottolinea solo le parole chiave con i colori indicati, poi trascrivile:
• tempo e territorio, in rosso; • città e società, in verde; • attività economiche, in blu.

Intorno al 2000 a.C., lungo le coste dell'attuale Libano si stabilì il popolo dei Fenici. Questo territorio era montuoso e non favoriva l'agricoltura, ma possedeva una grande risorsa: il legname. Le foreste erano ricche di cedri, grandi alberi dal legname robusto con il quale i Fenici impararono a fabbricare navi. Inoltre, le coste presentavano ampie insenature, adatte a costruire città con grandi porti che, grazie alle montagne posizionate alle spalle, erano protetti dal vento. Le caratteristiche del territorio fecero sì che i Fenici si dedicassero soprattutto alla navigazione in mare.

Le città e i commerci via mare

Le città della Fenicia erano separate tra loro dalle montagne: i contatti fra un centro abitato e l'altro erano difficili, perciò ogni città rimase indipendente e non si formò mai un unico Stato.

Tuttavia, i re delle varie città-stato stabilirono un accordo per aiutarsi nelle attività commerciali. Infatti, i Fenici divennero famosi soprattutto per i loro commerci nel Mar Mediterraneo. I mercanti scambiavano i prodotti dell'artigianato e le materie prime che mancavano in Fenicia: grano dall'Egitto, metalli da altri popoli del Mediterraneo.

PARARE INSIEME

Confrontati con un compagno: avete trovato le stesse informazioni importanti? Pensi di dover correggere il tuo lavoro? Quando sei sicuro delle tue scelte, confronta con le parole scritte in neretto a pagina 70 del Sussidiario.

IMPORTANTI

QUANDO E DOVE: → ROSSO
INTORNO AL 2000 A.C. LUNGO LE COSTE DELL'ATTUALE LIBANO SI STABILÌ IL POPOLO DEI FENICI.

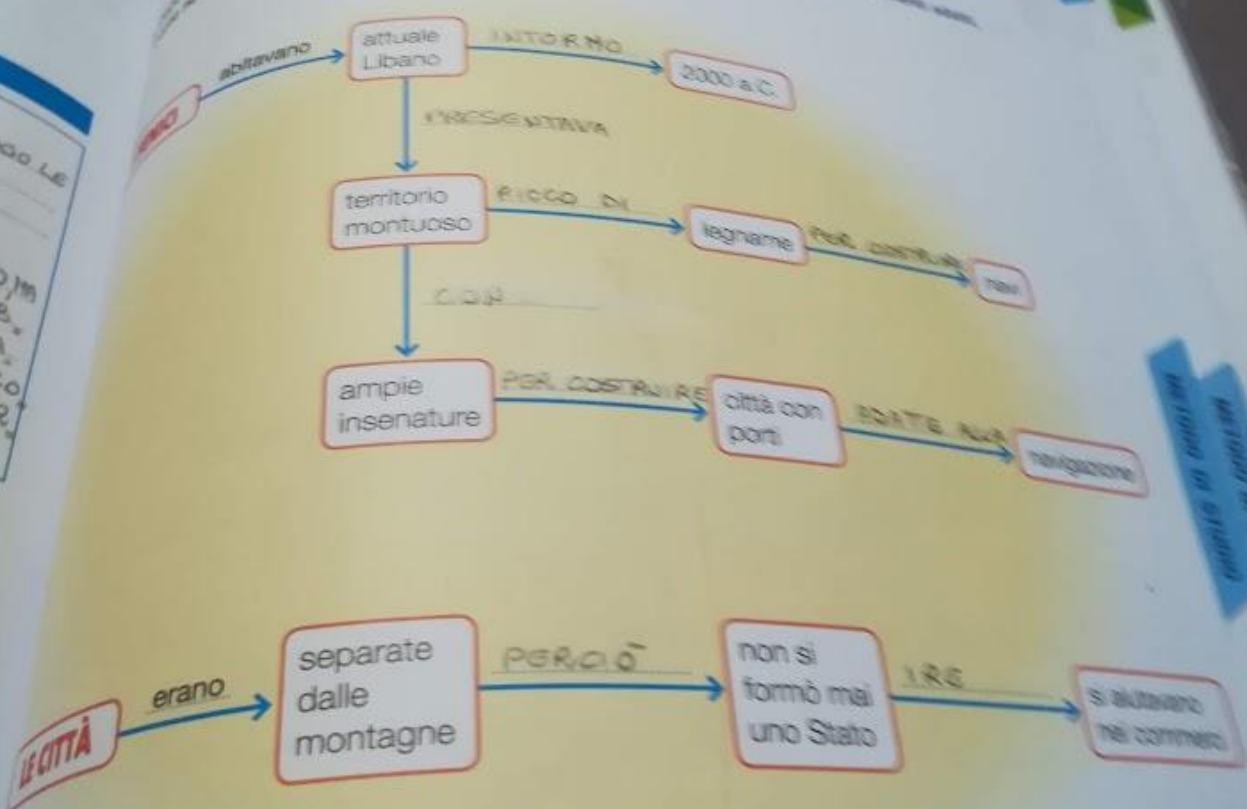
TERRITORIO: → ROSSO
IL TERRITORIO ERA MONTUOSO E NON FAVORIVA L'AGRICOLTURA, MA POSSIEDEVA IL LEGNAME PER FABBRICARE LE NAVI. LE COSTE PRESENTAVANO AMPIE INSENUATURE E LE CITTÀ ERANO PROTETTE DALLE MONTAGNE.

CITTÀ E SOCIETÀ: → VERDE
LE CITTÀ ERANO SEPARATE DALLE MONTAGNE. I CONTATTI FRA UN CENTRO ABITATO E L'ALTRO ERANO DIFFICILI, PERCIÒ OGNI CITTÀ RIMASE INDIPENDENTE E NON SI FORMÒ MAI UN UNICO STATO.

ATTIVITÀ ECONOMICHE: → BLU
I FENICI DIVENNERO FAMOSI PER I LORO COMMERCII. I MERCANTI SCAMBIAVANO I PRODOTTI DELL'ARTIGIANATO E LE MATERIE PRIME CHE MANCAVANO IN FENICIA: GRANO DALL'EGITTO, METALLI DA ALTRI POPOLI DEL MEDITERRANEO.

I Fenici, le città e i commerci

... come letto pagina 70 del Sussidario, completa lo schema inserendo i collegamenti adatti nell'esempio.



Navigare in mare aperto

- Questo argomento è trattato a pagina 21 del *Supplemento*. Immagina di dover spiegare la nave fenicia a una persona che non ne sa nulla. Procedi così:
- leggi i testi contenuti nelle caselle, poi organizza un tuo discorso mettendo in ordine le informazioni con i numeri da 1 a 9;
 - descrivi la nave fenicia utilizzando le informazioni nell'ordine che hai dato.

1 I Fenici costruivano le loro imbarcazioni usando il legno di cedro.

2 Le navi mercantili affrontavano lunghi viaggi, perciò dovevano essere robuste e sicure.

3 I Fenici introdussero alcune innovazioni.

4 La chiglia era una lunga trave di legno che rendeva stabile la nave.

5 La fiancata della nave era fatta di legno e robusta, per resistere ai colpi delle onde.

7 Il timone era formato da due remi, uno per ciascuna fiancata.

6 Lo scafo era largo e piatto, per caricare grandi quantità di merci.

8 Una pesante ancora di ferro serviva a tenere la nave ferma in porto.



9 I Fenici navigavano anche lontano dalle coste, perciò impararono ad orientarsi in mare di notte.

ARARE INSIEME

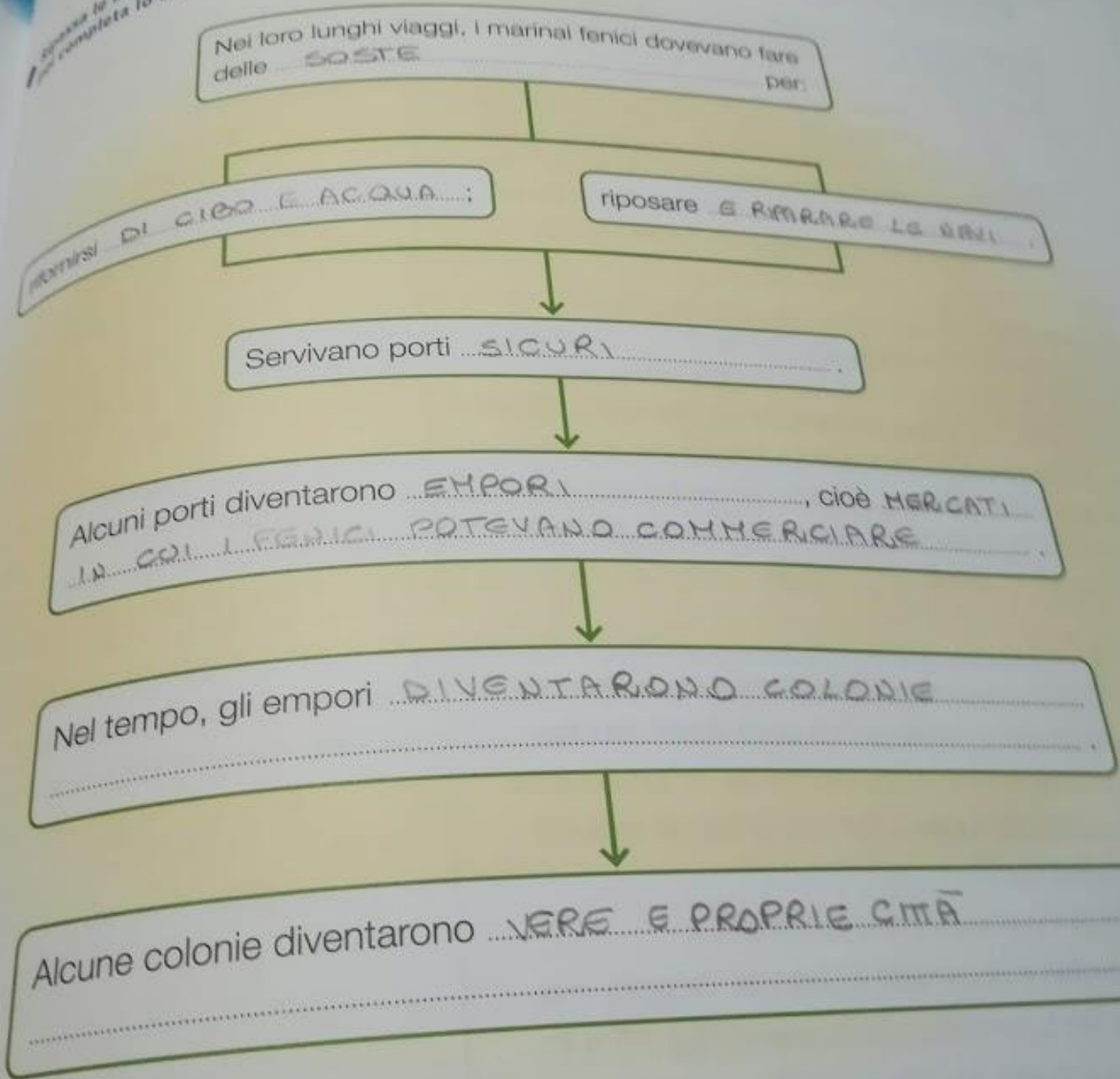
Chiedi a un compagno o a un adulto di ascoltarti mentre esponi nuovamente. Al termine, poni alcune domande.

- Sono stato chiaro? Hai compreso tutte le informazioni?
- Che cosa, secondo te, dovrei migliorare? Hai un consiglio da darmi?

Le colonie

Competenza
SCHEMATIZZARE

Summa le informazioni studiate sulle colonie dei Fenici (pagina 72 del sussidiario).
E completa lo schema.



PARARE INSIEME

Ora valuta il lavoro che hai svolto in questa pagina.

... individuare le informazioni fondamentali.
... schema.

I Fenici, dove e quando

Questa carta geostorica colora di verde la zona pianeggiante in cui si stabilirono i Fenici.



1 Completa il testo con le parole indicate.

Mediterraneo • imbarcazioni • nemici • legname • città • porti • cedro

Intorno al 2000 a.C. la popolazione dei Fenici si stabilì lungo la costa orientale del Mar MEDITERRANEO, in una sottile striscia di terra pianeggiante. In breve i primi insediamenti divennero CITTA. Inoltre le insenature della costa permettevano di costruire grandi PORTI protetti dal vento grazie alle montagne posizionate alle spalle. I Fenici sfruttarono il LEGNAME delle ricche foreste di CEDRI per costruire NAVI, sviluppando la navigazione in mare.

2 Sulla linea del tempo è indicata la durata della civiltà fenicia. Osserva, calcola e rispondi.



- Quando sorsero i primi insediamenti fenici? NEL 2000 A.C.
- Quanti anni durò la civiltà fenicia? 1700 ANNI

La civiltà fenicia

1 Completa le affermazioni.

Le città-stato fenicie

- In Fenicia ogni città rimaneva indipendente dalle altre, una quindici una ... città-stato A capo di ciascuna città-stato c'era un ... re ... che aveva tutti i poteri.
- I diversi re, però, si accordarono tra loro per militare nei ... grandi commerci



Esperti navigatori e commercianti


- I commercianti si avvalsero grazie alla consuetudine dei Fenici di costruire ... navi ... grandi e robuste, adatte a navigare in mare.
- I marinai impararono a orientarsi anche di notte, osservando la posizione della ... stelle

Empori e colonie

- Per affrontare le rotte più lunghe, i marinai avevano bisogno di luoghi in cui fermarsi per ... riposare I Fenici crearono perciò degli ... empori ..., grandi mercati per scambiare le ... merci ... e rifornire le navi.
- Nel tempo gli empori si ingrandirono al punto da diventare vere e proprie ... città Fu così che sorsero le ... colonie

La porpora e il vetro

- Il prodotto più apprezzato dell'artigianato fenicio erano le stoffe color ... porpora Il colore era ottenuto con una tintura naturale ricavata dal ... murice ..., un mollusco che si trova sui fondali del Mar ... Mediterraneo
- I Fenici inventarono anche una nuova tecnica per la lavorazione del vetro, quella del ... soffiato



Ecco le schede di storia con le relative correzioni. Ho unito le schede sui due argomenti perché così avete un quadro completo di tutto il popolo fenicio.

Mi raccomando, se volete fare i fenici, tenete conto anche della parte riguardante le colonie, i prodotti e le tecniche innovative. Nello schema che vi darò infatti sono previsti.

Per questa settimana non vi darò cose nuove perché voglio che ripassate bene la popolazione che avete scelto.

Mi raccomando cercate di completare tutto lo schema che vi darò.

BUON RIPASSO A TUTTI VOI.

Vi ho messo in fondo la mappa che avete sul libro mappe a pag. 14.

I FENICI (2000 a.C. – 700 a.C.)

Dove abitavano?

sulle coste più orientali del Mar Mediterraneo, un territorio ricco di:

- **promontori e montagne** che **protegevano** da attacchi nemici
- **insenature** per costruire **porti sicuri**
- **boschi** che fornivano **legname**



Quali attività economiche praticavano?

i **commerci via mare** erano la principale fonte di ricchezza

Quali erano i prodotti del commercio?



tessuti in **porpora**
oggetti in **vetro soffiato**

Com'era organizzata la società?

- **città-stato** indipendenti
- a capo c'era un **re** e il suo **palazzo** veniva costruito su alture e circondato da **mura**



Com'era la scrittura?

inventarono l'**alfabeto**



le rotte commerciali si allungarono e i Fenici costruirono gli **empori**, cioè dei grandi mercati; dagli empori si svilupparono le **colonie**, vere e proprie città

