


Buongiorno bimbi ..... e ben ritrovati

Come è andata con il numero 10? Vi è piaciuta la DECINA?  
E le coppie dei numeri amici? Le sapete benissimo, vero?

Come prima cosa vi lascio le correzioni dei 2 lavori che avevate per compito











COMPITO PER 8 MAGGIO

DOPO AVER STUDIATO  
I NUMERI AMICI DI 10



**CON I REGOLI**

1 Osserva come è composto il numero 10 e completa.

	10 e 0	$10 + 0 = 10$
	9 e 1	$9 + 1 = 10$
	8 e 2	$8 + 2 = 10$
	7 e 3	$7 + 3 = 10$
	6 e 4	$6 + 4 = 10$
	5 e 5	$5 + 5 = 10$
	4 e 6	$4 + 6 = 10$
	3 e 7	$3 + 7 = 10$
	2 e 8	$2 + 8 = 10$
	1 e 9	$1 + 9 = 10$

SENZA I REGOLI

IL CONDOMINIO DI 10

10	0
0	10
10	0
9	1
1	9
8	2
2	8
7	3
3	7
6	4
4	6
5	5

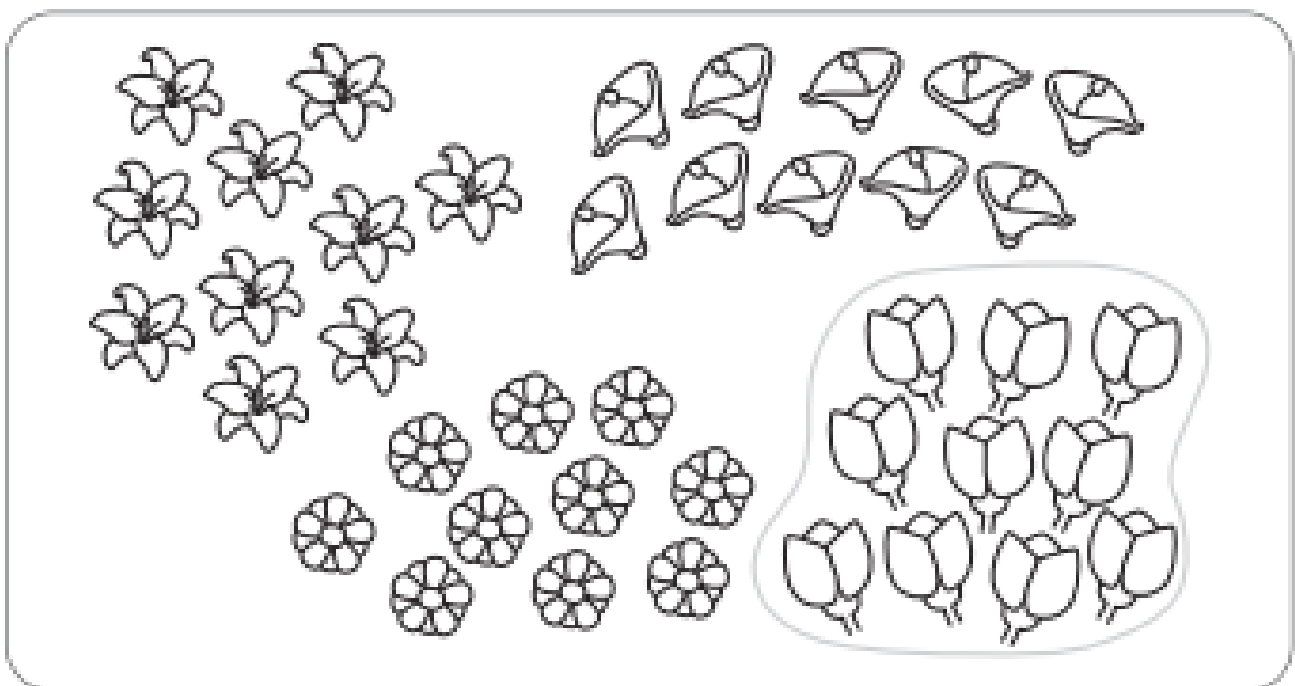
STAMATTINA, INSIEME, ANDIAMO A RIPRENDERE LE COSE CHE VI HO DETTO LA VOLTA SCORSA per fissarle meglio .....

- a) Prendete il quaderno e scrivete la DATA
- b) Ricopiate il titolo con il rosso e poi incollate la scheda.

La fioraia prepara dei mazzi con la stessa quantità di fiori. Ogni mazzo deve essere composto da **10 fiori**, cioè da **una decina** di fiori.



**1** Conta, raggruppa e forma mazzi da **dieci fiori** ciascuno, come nell'esempio.



**10 fiori** → **una decina** di fiori

**2** Leggi, poi completa con il disegno e con i numeri per ottenere sempre una decina.

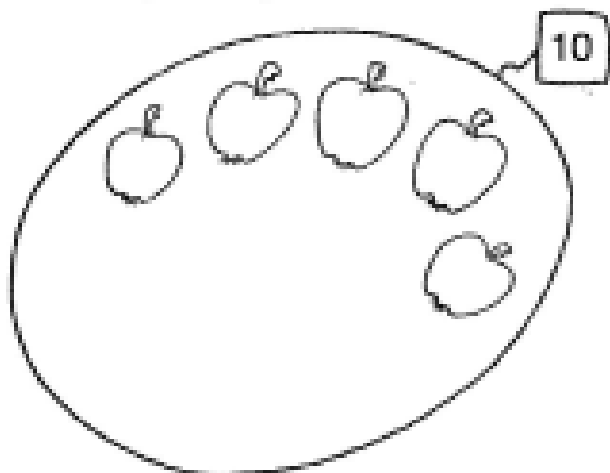
**3 e** ..... → .....

**2 e** ..... → .....

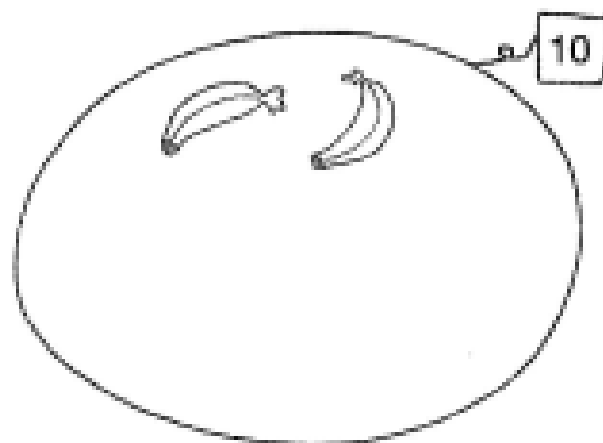
c) Nella pagina pulita , ricopiate il titolo e poi prova a lavorare come abbiamo fatto insieme

**ORA PROVO DA SOLO**

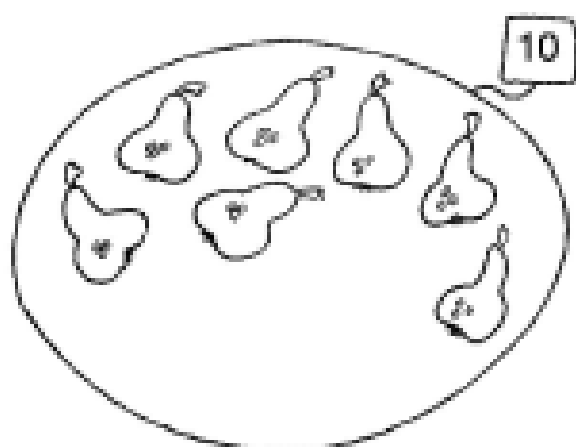
**\* Completa gli insiemi.**



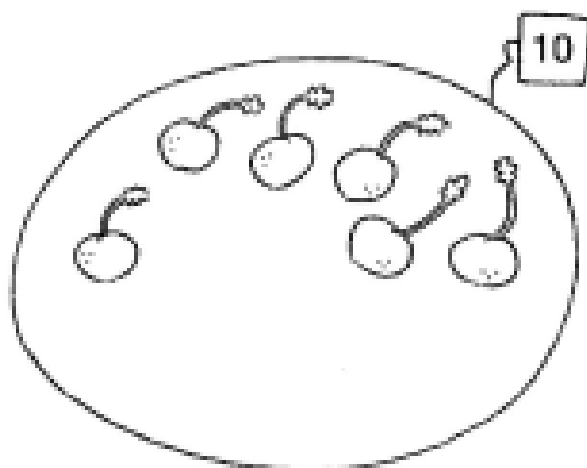
$$5 + \dots = 10$$



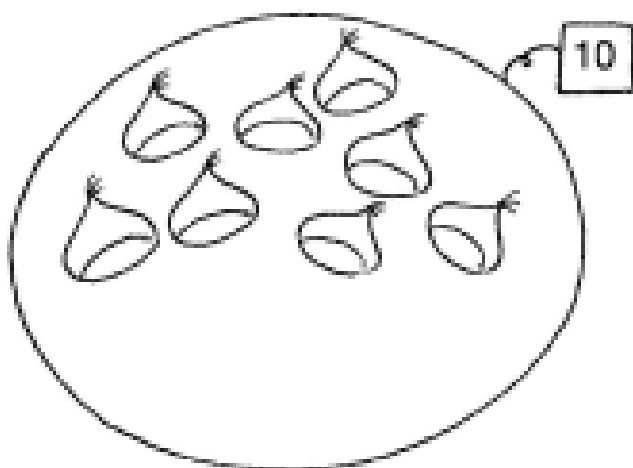
$$2 + \dots = 10$$



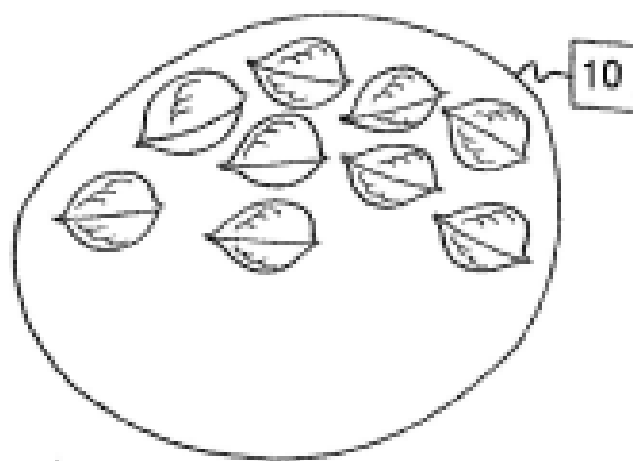
$$7 + \dots = 10$$



$$6 + \dots = 10$$



$$8 + \dots = 10$$



$$9 + \dots = 10$$

d) Nella pagina pulita proviamo a vedere, con una scheda, se vi ricordate i numeri amici di 10.

Ricopiate il titolo e **GUARDATE IL VIDEO**

## PROVIAMO INSIEME

### Grande festa alla villa del 10.

SCOPRI CHI SONO I NUMERI AMICI  
CHE IL 10 VANNO A TROVARE  
ED IN CASA SUA POSSONO ENTRARE,  
MA ATTENTO, SENZA SBIRCIARE  
TU LI DEVI INDOVINARE.




e) **COMPITO PER 12 MAGGIO**

Completate le schede rivedendo il concetto di DECINA e ripassando bene i numeri amici di 10

**ARITMETICA**



**LA DECINA**

✦ **Disegna una decina di oggetti per ogni vagoncino. Segui le indicazioni.**



# AMICI DEL 10

Completa le coppie di "amici del 10" e imparale a memoria.



Bimbi ora ci salutiamo e ci diamo appuntamento alla prossima settimana.

Mi raccomando, riguardate bene il lavoro sulla DECINA e STUDIATE ancora i numeri amici di 10

A presto!

M/a Silvia