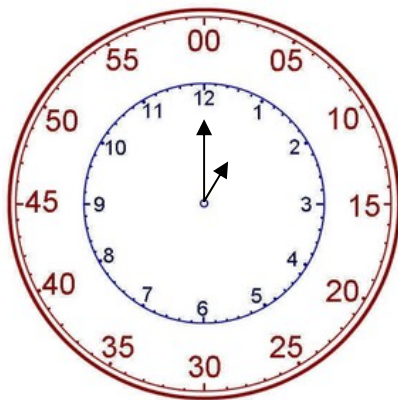


<https://www.youtube.com/watch?v=YbOw3OeUvYA&t=89s>

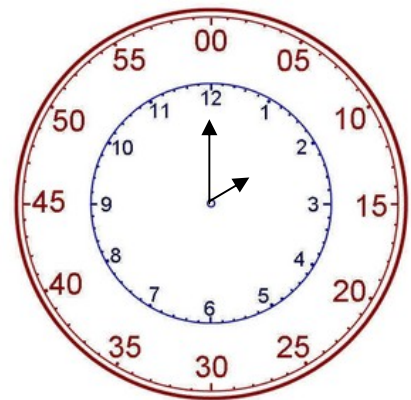
# Prima di scrivere la lezione guarda il video consigliato

lunedì 6 aprile

**Come si leggono i minuti?**



La lancetta corta è sull'1 quella  
lunga è sul 12.  
E' l' una.

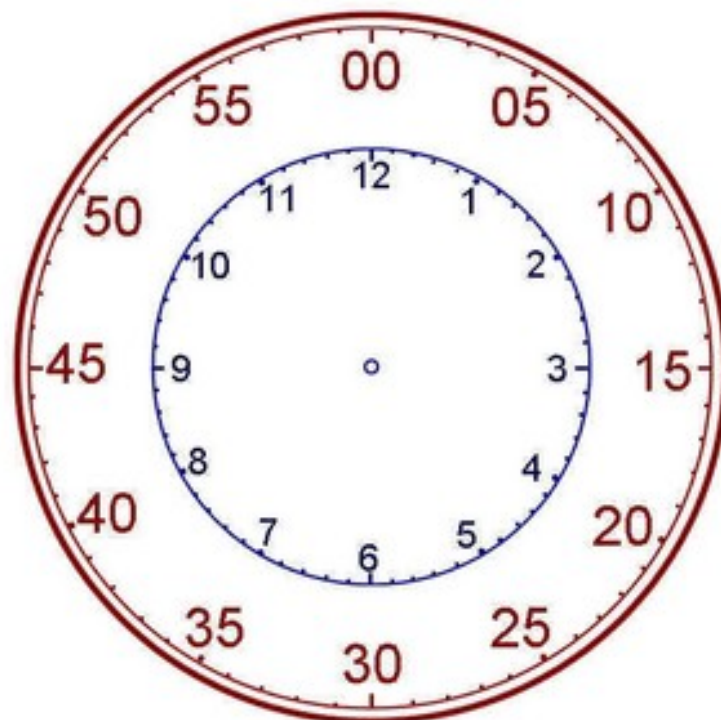


Quando la lancetta lunga farà un  
giro completo sarà passata  
un'ora. Sono le 2:00.

Un'ora si divide in 60 minuti



Ma andiamoli a cercare sull'orologio!



1 Completa la tabella **contando le tacche dei minuti** sul tuo amico orologio.

Se la lancetta lunga è sul numero...

1	2	3	4	5	6	7	8	9	10	11	12
5	10	15									

i minuti sono...

2 Quanti minuti? Prova e conta sul tuo amico orologio, poi scrivi.



4 e .....



4 e .....



4 e .....



4 e .....

1 Leggi e scrivi l'ora che segna ogni orologio, come nell'esempio.



3 e 5



.....



.....




.....



.....



.....



.....



.....

2 Completa gli orologi scrivendo l'ora indicata.



13 e 30



14 e 15



17 e 10



18 e 20



22 e 50



23 e 25

Osserva, leggi e ricorda!

È mezzogiorno

È mezzanotte

Esegui i compiti per il 20 aprile

Esercitati tanto

