





Buongiorno bimbi, ben ritrovati!

Com'è andata con i calcoli di addizione?

Partiamo subito con la correzione del compito

MACCHINE DEI NUMERI

Completa le catene.



Completa le tabelle.

	$\xrightarrow{+2}$	
5		7
6		8
4		6
3		5
2		4
1		3

	$\xrightarrow{+4}$	
3		7
1		5
5		9
0		4
2		6
4		8

	$\xrightarrow{+3}$	
1		4
6		9
2		5
5		8
0		3
4		7

Questi sono i numeri che avrete scoperto anche voi. Seguendo le indicazioni delle frecce sarete arrivati in fondo alla catena. È un caso che tutte le catene risultino sempre 9

L'esercizio 2 andava completato in questo modo

Sono sicura che siete stati tutti **BRAVISSIMI !!!**

QUINDI STAMATTINA LAVOREREMO CON ADDIZIONI CHE HANNO 3 NUMERI

a) Prendiamo il quaderno e scriviamo la DATA di oggi

b) Con il rosso ricopiamo il titolo

CALCOLIAMO SENZA LE MACCHINE

c) Scriviamo operazioni che hanno 3 numeri e calcoliamo con l'aiuto delle dita **(VEDI FILMATO)**

d) Nella stessa pagina, saltate 5 quadretti e ricopiate a fianco, una sotto l'altra, le operazioni. Queste provate a completarle voi.

$$2 + 1 + 3 = 6$$

$$1 + 0 + 2 =$$

$$3 + 2 + 2 = 7$$

$$6 + 0 + 1 =$$

$$0 + 2 + 2 = 4$$

$$1 + 5 + 3 =$$

$$2 + 0 + 6 = 8$$

$$1 + 2 + 3 =$$

$$0 + 1 + 2 = 3$$

$$2 + 0 + 3 =$$

$$1 + 1 + 4 = 6$$

$$1 + 3 + 3 =$$

$$4 + 0 + 2 = 6$$

$$2 + 2 + 2 =$$

$$6 + 0 + 3 = 9$$

$$3 + 1 + 1 =$$

$$6 + 1 + 1 = 8$$

$$3 + 0 + 1 =$$

$$0 + 3 + 6 = 9$$

$$1 + 3 + 2 =$$

$$1 + 1 + 1 = 3$$

$$2 + 4 + 1 =$$

e) Nella pagina pulita facciamo insieme un indovinello. Ricopiate il titolo ed il testo (che vi riporto qui sotto) e poi seguite la spiegazione per risolverlo

INSIEME UN INDOVINELLO

LUCA E ZIYAD GIOCANO CON LE MACCHININE. 4 SONO ROSSE, 2 SONO GIALLE E 1 È NERA.

● QUANTE MACCHININE IN TUTTO?

(VEDI FILMATO)

f) Ora ricopiate sul quaderno il compito e risolvete. Mettete in rosso i titoli per ogni esercizio proprio come vedete qui sotto.

COMPITO PER MARTEDÌ 24 MARZO

$$5 + 3 + 1 =$$

$$2 + 1 + 6 =$$

$$1 + 5 + 2 =$$

$$0 + 3 + 4 =$$

$$2 + 0 + 4 =$$

Nella stessa pagina saltate 2 quadretti e ricopiate

METTI CON IL BLU IL NUMERO MANCANTE

$$5 + \dots = 8$$

$$\dots + 1 = 7$$

$$6 + \dots = 9$$

$$\dots + 0 = 5$$

$$2 + \dots = 6$$

$$\dots + 3 = 4$$

Nella pagina pulita ricopiate e poi risolvete

I PESCI

IN UN ACQUARIO HO VISTO 2 PESCI BLU, 4 PESCI GIALLI
E 3 PESCI ROSSI.

● QUANTI PESCI IN TUTTO?

Lavorate con attenzione ed ordine.

Ci sentiamo la prossima settimana.

Ciao ciao

M/a Silvia