


Ciao bimbi.....mi sentite??? Sono la maestra Silvia  
 Anche noi, da questa settimana, iniziamo con questo tipo di  
 lezioni dove sentirete la mia voce.


Siete riusciti a lavorare con le TABELLE?  
 La scheda di compito andava risolta così.

**Tabelle dell'addizione**


1. Completa.



+	5	0	3	2	4	1
3	8	3	6	5	7	4
1	6	1	4	3	5	2
4	9	4	7	6	8	5
2	7	2	5	4	6	3



+	4	1	3	2
0	4	1	3	2
2	6	3	5	4
4	8	5	7	6
1	5	2	4	3



+	0	4	1	5	2	3
3	3	7	4	8	5	6
0	0	4	1	5	2	3
4	4	8	5	9	6	7
1	1	5	2	6	3	4
5	5	9	6	10	7	8
2	2	6	3	7	4	5

Se avete trovato questi stessi risultati il compito è tutto  
 corretto

## BENE, ALLORA PARTIAMO!

a) Prendiamo il quaderno e scriviamo la DATA di oggi

b) Lavoreremo ancora con l'addizione. Ricordate?????

LA MACCHINA CHE **AGGIUNGE** .....

quando la macchina aggiunge, per trovare il risultato dobbiamo contare andando in avanti

Perfetto ..... oggi, però, useremo PIÙ MACCHINE

Guardate come(**VEDI FILMATO**)

c) Stampate la scheda e completatela come ha fatto la maestra. Se non riuscite a stamparla, con l'aiuto di mamma e papà, ricopiatela sul quaderno e poi lavorate con gli stessi numeri che ha usato la maestra.


d) Infine nella pagine pulita incollate e completate la scheda "MACCHINE DEI NUMERI".

(anche in questo caso se non riuscite a stamparla è da ricopiare sul quaderno con l'aiuto di un adulto)

Lavorate sempre con ordine, mi raccomando






Un abbraccio

M/a Silvia



# MACCHINE DEI NUMERI

Completa le catene.



Completa le tabelle.

5	
6	
4	
3	
2	
1	

+2

3	
1	
5	
0	
2	
4	

+4

1	
6	
2	
5	
0	
4	

+3

1994-2000, Ed. Piemme, s.p.a. - 11100 Biella (BI) - Tel. 015/66101 - Fax 015/6610200