

ATTIVITA' GEOGRAFIA CLASSE 3^



CORREZIONE DEL COMPITO ASSEGNATO

Il fiume

1 Rispondi e completa indicando con una X.

Che cos'è il fiume?

- Un corso d'acqua che sfocia nel mare.
 Un'immensa distesa di acqua dolce.

Come si chiama la zona in cui nasce il fiume?

- Foce. Letto. Sorgente.

Come si chiama il solco naturale in cui scorre il fiume?

- Letto. Torrente. Ansa.

Come si chiama il punto in cui il fiume si immette nel mare?

- Foce. Sorgente.

Un fiume può nascere da un ghiacciaio.

- Sì. No.

Quando un fiume incontra un forte dislivello forma:

- una cascata. un lago artificiale.

Durante il suo corso, se un fiume incontra una conca forma:

- un'ansa. un laghetto naturale.

Un fiume che riversa le sue acque in un altro fiume si chiama:

- lago. immissario. affluente.

Un fiume che entra in un lago si chiama:

- affluente. immissario. emissario.

2 Completa

Quando, in pianura, un fiume incontra un ostacolo lo aggira e forma UN'ANSA.

Quando un fiume si getta nel mare può formare una foce A ESTUARIO oppure A DELTA.

Gli uomini, per evitare i danni dei fiumi in piena, sulle rive costruiscono ARGINI.

3 Completa indicando con

Il fiume può essere utilizzato dall'uomo:

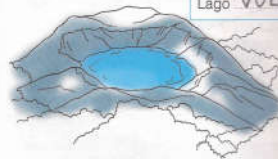
- per costruire centrali atomiche
 come via di comunicazione
 per l'allevamento dei pesci
 per l'allevamento del pollame
 per l'irrigazione dei campi.



Il lago

1 Osserva le immagini, scrivi di che tipo di lago si tratta, poi completa.

Lago VULCANICO



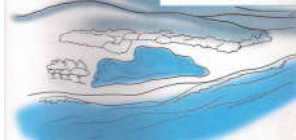
I laghi di questo tipo si sono formati nei CRATERI di antichi VULCANI. Sono alimentati da ACQUA CHE PROVIENE DALLE PIOGGE.

Lago GLACIALE

Questi laghi hanno generalmente forma ALLUNGATA. Si sono formati durante le VALLI, quando antichi GHIACCIAI si sono spostati, formando delle ampie conche.



Lago COSTIERO



I laghi di questo tipo si trovano vicino al MARE, da cui sono separati da cordoni di SABBIA. La loro acqua non è dolce, ma SALMASTRA.

Lago DI SBARRAMENTO

I laghi di questo tipo possono essere di origine artificiale o DI SBARRAMENTO. Quelli di origine artificiale sono stati costruiti dall'UOMO, sbarrando il corso di un FIUME con una DIGA; quelli di origine naturale si sono formati per i detriti trasportati da un FIUME che ne hanno sbarrato il corso.



LA COLLINA

Guarda la video lezione su: <https://youtu.be/D4-OqzB6UG8>

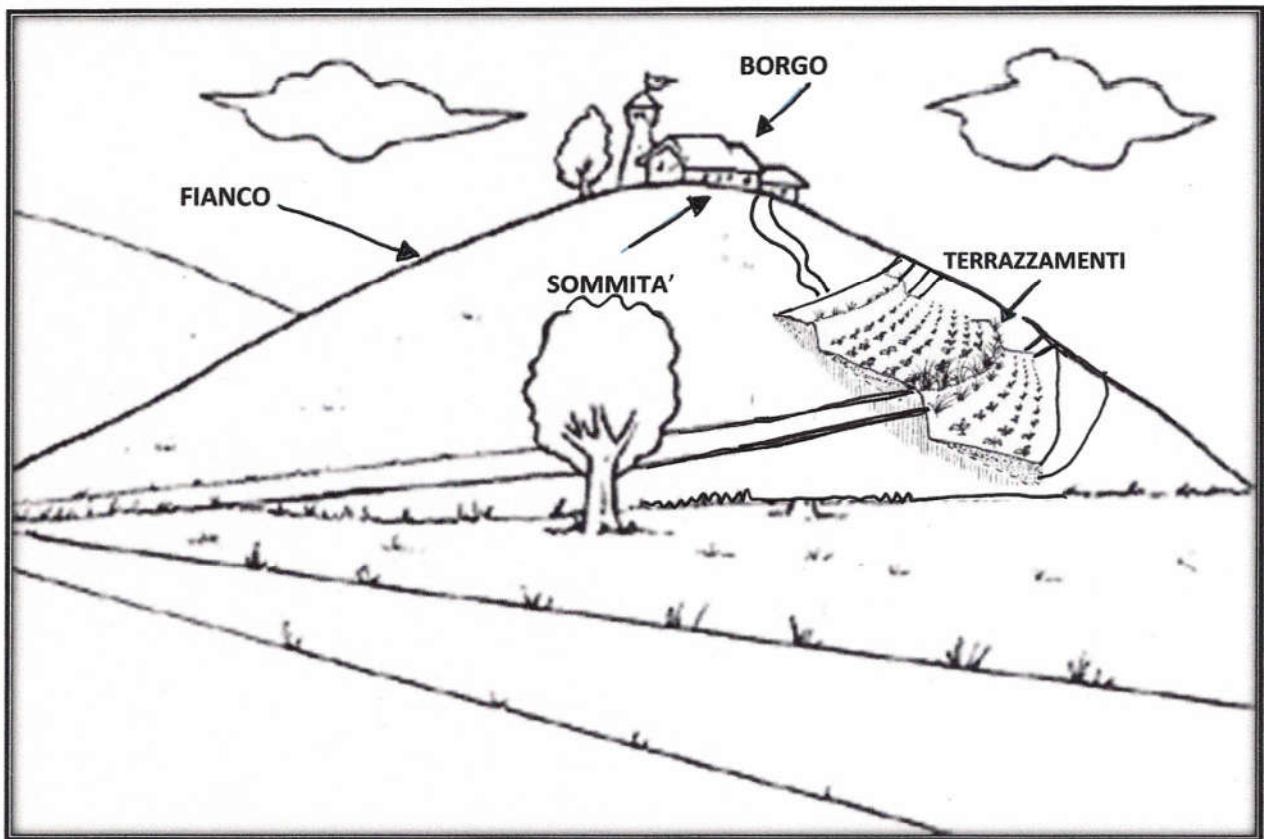
- DATA DEL GIORNO SUL QUADERNO martedì 17 marzo O SU UN FOGLIO da tenere in cartelletta

TITOLO: **LA COLLINA**

scrivi → **IL GEOGRAFO DEFINISCE COLLINA UN RILIEVO CHE E' MAGGIORE DI 200 metri SUL LIVELLO DEL MARE, MA NON SUPERA I 600 metri.**

RICOPIA le definizioni di **SOMMITA'**, **PENDIO**; **TERRAZZAMENTI**; **BORGO** che trovi sul libro a p. 106.

Incolla o ricopia questa immagine:



COMPITO per martedì 24 marzo /Studia alle pagine 106-107 e svolgi il breve esercizio "Per Imparare". CIAO. BUON LAVORO! Maestra Katia.

