

https://youtu.be/FbEcoMb4j_M

RICOPIO SUL QUADERNO LA LEZIONE

NON RICOPIATE LE PARTI SCRITTE IN AZZURRO

Lunedì 17 marzo

IMPARIAMO A LEGGERE L'ORA

Come abbiamo già detto Mister Clock è formato da un **quadrante** sul quale sono inseriti i numeri dall'**1** al **12**.

Ha poi due lancette:

la lancetta rossa, lenta come una lumaca, che segna le ore;

la lancetta blu, veloce come un falco, che segna i minuti.

Le lancette di Mister Clock ruotano sempre **verso destra**, si dice in **senso orario**.

Tra un numero e l'altro ci sono dei puntini che indicano i **minuti**.

Quando la freccia blu compie un intero giro del quadrante vuol dire che è passata un'ora.

Prima dicevamo che sul quadrante ci sono 12 numeri, ma com'è possibile visto che sappiamo che un giorno è composto da 24 ore.

Procediamo per gradi: per lavorare ci serve l'orologio che abbiamo costruito in classe.

L'avete preso?

Bene, adesso ascoltatevi bene, per il momento ci dobbiamo concentrare solo sui numeri scritti in "cicciettino".

Posizionate la lancetta lunga e quella corta sul 12; quando le due lancette sono sul numero 12 ci sono due possibilità, o è mezzogiorno o è mezzanotte.

O mio Dio ma cosa sta succedendo?

<https://www.youtube.com/watch?v=3zYPO--umGo>

Ma perché Cenerentola ha così tanta premura?

E già, la fatina l'aveva avvisata, allo scoccar della mezzanotte tutto sarebbe tornato come prima.

Le due lancette sono sovrapposte, in questo caso è mezzanotte.

Quando la lancetta blu dei minuti compie un giro completo vuol dire che sono passati 60 minuti, cioè un'ora.

Nello stesso tempo la lancetta rossa delle ore si sposta solo di un numero.

Ve lo avevo detto che era lenta come una lumaca!

E allora proviamo a far fare un giro completo alla lancetta blu, dove andrà a finire?

Ancora sul 12 mentre la lancetta rossa indicherà il numero 1.

Per leggere l'ora esatta non si fa fatica.


Dovete ricordarvi che la lancetta blu indica SEMPRE il 12!

Se dico: " Sono le 4" punto la lancetta blu sul 12 e quella rossa sul 4.


"Sono le 7" punto la lancetta blu sul 12 e quella rossa sul 7.

COMPITO PER LUNEDI' 23


Adesso prova tu, leggi l'ora e disegna le lancette




Sono le 3:00




Sono le 5:00




Sono le 10:00




Sono le 2:00




E' mezzanotte



Sono le 7:00



Sono le 12:00



Sono le 4:00